











الضرب


بالرقم ١٠ و مع الرقم ١٠

المثال 1:

يوجد 10 بيضات في علبة واحدة. كم عدد البيض في أطباق 2،3،4،5،6،7،8،9،10؟

	10	$1 \cdot 10 = 10$
	$10 + 10$	$2 \cdot 10 = 20$
	$10+10+10$	$3 \cdot 10 = 30$
	$10+10+10+10$	$4 \cdot 10 = 40$
	$10+10+10+10+10$	$5 \cdot 10 = 50$
	$10+10+10+10+10+10$	$6 \cdot 10 = 60$
	$10+10+10+10+10+10+10$	$7 \cdot 10 = 70$
	$10+10+10+10+10+10+10+10$	$8 \cdot 10 = 80$
	$10+10+10+10+10+10+10+10+10$	$9 \cdot 10 = 90$
	$10+10+10+10+10+10+10+10+10+10$	$10 \cdot 10 = 100$

علب كل منها 10 بيضات 5

5 кутија у свакој по 10 јаја	На 5 места по 10	$5 \cdot 10 = 50$
	$10 + 10 + 10 + 10 + 10$	$5 \cdot 10 = 50$

قل ما تراه في الصورة

في الصورة آلة للضرب
تتم قراءة العلامة * كضرب




1-رسم المفقودين:

ا-



ب-



2- املأ الجدول:

1	·	10	=	
2	·	10	=	
3	·	10	=	
4	·	10	=	
5	·	10	=	
6	·	10	=	
7	·	10	=	
8	·	10	=	
9	·	10	=	
10	·	10	=	

10	·	1	=	
10	·	2	=	
10	·	3	=	
10	·	4	=	
10	·	5	=	
10	·	6	=	
10	·	7	=	
10	·	8	=	
10	·	9	=	
10	·	10	=	

2- املأ الجدول:


3	·	10	=	
5	·	10	=	
1	·	10	=	
4	·	10	=	
2	·	10	=	
8	·	10	=	
6	·	10	=	
10	·	10	=	
7	·	10	=	
9	·	10	=	

10	·	5	=	
	·	4	=	40
10	·		=	80
	·	3	=	30
10	·		=	10
10	·	7	=	
	·	9	=	90
10	·	6	=	60
10	·	10	=	
	·	2	=	20

4	
7	
1	
6	
9	
5	
10	
2	
8	
3	

·10

4- اضرب واكتب المنتج ثم لونه كما تريد



5- احسب الرقم الذي:

أ) 10 مرات أكبر من عدد 7

ب) 5 مرات أكبر من الرقم 10

ج) 10 مرات أكبر من الرقم 3

6- قامت أنا بحل 10 مهام كل يوم. كم عدد المهام التي قامت بها في 8 أيام؟

حل:

الجواب: