












# Множење

## броја 2 и бројем 2

### Пример1:

У једном тањиру су 2 банане. Колико је укупно банана у 2, 3, 4, 5, 6, 7, 8, 9, 10 тањира?

	2	$1 \cdot 2 = 2$
	$2 + 2$	$2 \cdot 2 = 4$
	$2+2+2$	$3 \cdot 2 = 6$
	$2+2+2+2$	$4 \cdot 2 = 8$
	$2+2+2+2+2$	$5 \cdot 2 = 10$
	$2+2+2+2+2+2$	$6 \cdot 2 = 12$
	$2+2+2+2+2+2+2$	$7 \cdot 2 = 14$
	$2+2+2+2+2+2+2+2$	$8 \cdot 2 = 16$
	$2+2+2+2+2+2+2+2+2$	$9 \cdot 2 = 18$
	$2+2+2+2+2+2+2+2+2+2$	$10 \cdot 2 = 20$

10 тањира у сваком по 2 банане	На 10 места по 2	$10 \cdot 2 = 20$
	$2+2+2+2+2+2+2+2+2+2$	$10 \cdot 2 = 20$

На слици је чаробна машина за множење.  
Знак  $\cdot$  чита се **пута**.




Доцртај шта недостаје:

а)



б)





Попуни табеле:

1	·	2	=	
2	·	2	=	
3	·	2	=	
4	·	2	=	
5	·	2	=	
6	·	2	=	
7	·	2	=	
8	·	2	=	
9	·	2	=	
10	·	2	=	

2	·	1	=	
2	·	2	=	
2	·	3	=	
2	·	4	=	
2	·	5	=	
2	·	6	=	
2	·	7	=	
2	·	8	=	
2	·	9	=	
2	·	10	=	



Попуни табеле:


3	·	2	=	
5	·	2	=	
1	·	2	=	
4	·	2	=	
2	·	2	=	
8	·	2	=	
6	·	2	=	
10	·	2	=	
7	·	2	=	
9	·	2	=	

2	·		=	4
	·	7	=	14
2	·		=	18
	·	3	=	6
2	·		=	2
2	·		=	12
2	·	8	=	
2	·	4	=	
2	·	5	=	
2	·		=	20

3	· 2
8	
7	
5	
1	
6	
9	
10	
4	
2	



Помножи па упиши производ, а затим обоји по жељи:



Израчунај број који је:

а) 2 пута већи од броја 6

---

б) 9 пута већи од броја 2

---

в) 2 пута већи од броја 10.

---



Лазар сваког дана прочита по 10 страна књиге. Колико је страна прочитао за 6 дана?

Решење:

---

Одговор:

---