











الضرب


بالرقم 2 و مع الرقم 2

مثال 1

يوجد موزتان في طبق واحد. كم عدد الموز في 2،3،4،5،6،7،8،9،10 طبق / أطباق؟

	2	$1 \cdot 2 = 2$
	$2 + 2$	$2 \cdot 2 = 4$
	$2+2+2$	$3 \cdot 2 = 6$
	$2+2+2+2$	$4 \cdot 2 = 8$
	$2+2+2+2+2$	$5 \cdot 2 = 10$
	$2+2+2+2+2+2$	$6 \cdot 2 = 12$
	$2+2+2+2+2+2+2$	$7 \cdot 2 = 14$
	$2+2+2+2+2+2+2+2$	$8 \cdot 2 = 16$
	$2+2+2+2+2+2+2+2+2$	$9 \cdot 2 = 18$
	$2+2+2+2+2+2+2+2+2+2$	$10 \cdot 2 = 20$

10 أطباق مع حبتين من الموز

10 тањира у сваком по 2 банане	На 10 места по 2	$10 \cdot 2 = 20$
	$2+2+2+2+2+2+2+2+2+2$	$10 \cdot 2 = 20$

قل ما تراه في الصورة

ИСПРИЧАЈ ШТА
ВИДИШ НА СЛИЦИ.



في الصورة آلة للضرب.

يقرأ العلامة * كضرب

1- ارسم ما هو مفقود

a-



b-



2-املا الجدول

1	·	2	=	
2	·	2	=	
3	·	2	=	
4	·	2	=	
5	·	2	=	
6	·	2	=	
7	·	2	=	
8	·	2	=	
9	·	2	=	
10	·	2	=	

2	·	1	=	
2	·	2	=	
2	·	3	=	
2	·	4	=	
2	·	5	=	
2	·	6	=	
2	·	7	=	
2	·	8	=	
2	·	9	=	
2	·	10	=	

3-املا الجدول


Попуни табеле:

3	·	2	=	
5	·	2	=	
1	·	2	=	
4	·	2	=	
2	·	2	=	
8	·	2	=	
6	·	2	=	
10	·	2	=	
7	·	2	=	
9	·	2	=	

2	·		=	4
	·	7	=	14
2	·		=	18
	·	3	=	6
2	·		=	2
2	·		=	12
2	·	8	=	
2	·	4	=	
2	·	5	=	
2	·		=	20

	· 2
3	
8	
7	
5	
1	
6	
9	
10	
4	
2	

4- اضرب واكتب المنتج ثم لونه كما تريد:



5- احسب الرقم الذي هو

أ) 2 مرات عدد 6

ب) 9 من عدد 2

ج) اكبر مرتين من الرقم ١٠

6-لازار يقرأ 10 صفحات من الكتاب كل يوم. كم عدد الصفحات التي قرأها في 6 أيام؟

حل:

الجواب: